

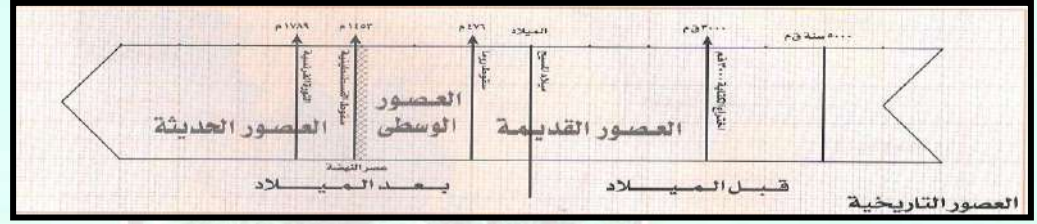
اليوم التاريخ/...../..... م

الوحدة الخامسة – العالم تحديات وتطلعات

بالاستعانة بالمخطط التالي أجب عن الأسئلة التالية:

عرف عصر النهضة:

.....
.....
.....
.....

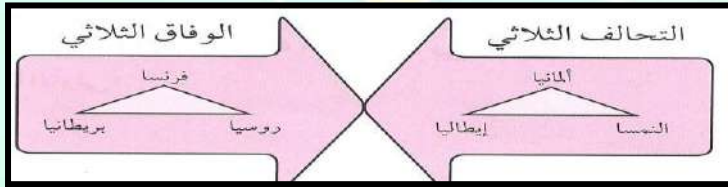


- الفترة التاريخية التي تمثلها العصور القديمة ما بين /
- العصور الوسطى التاريخية تمتد بين /
- العصور الحديثة التاريخية تبدأ منذ عام بسقوط مدينة علي يد العثمانيين.

أنظر الشكل التالي ثم اجب عن الأسئلة التالية :

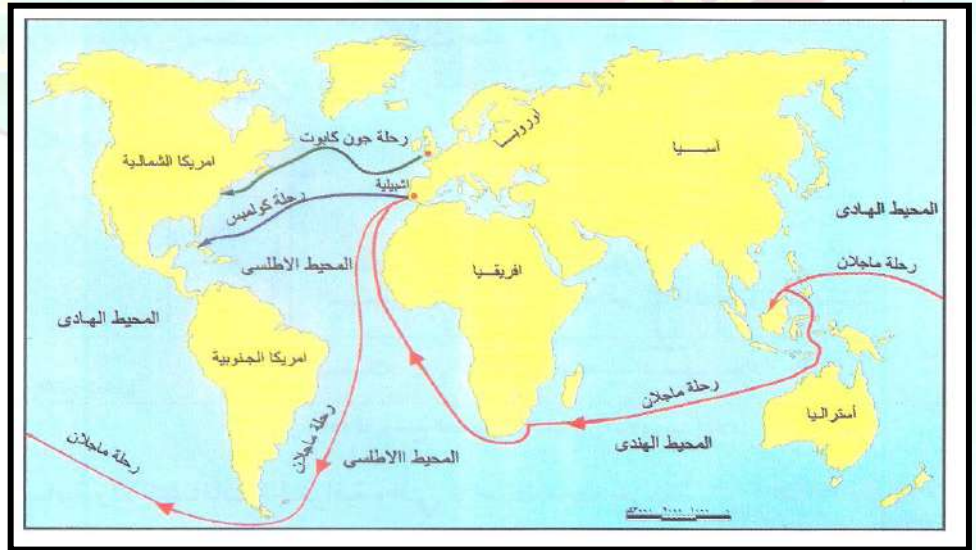
■ مم تكون الحلف الثلاثي:

■ ما هي الدول التي كونت الوفاق الثلاثي



الحركة الإنسانية:

.....
.....
.....
.....



الكشوف الجغرافية

.....
.....
.....
.....

أنظر الخريطة التالية واجب عن الأسئلة التالية:

■ أذكر أسماء ثلاثة ملاحين قادوا حركة الكشوف الجغرافية:

..... أستنتج اسم المكتشف (الملاح) الذي اثبت كروية الأرض:

■ من هو المكتشف الذي وصل إلي الهند عام ١٤٩٨ م

■ حدد علي الخريطة قارات العالم القديم بالرمز (=) .

■ حدد علي الخريطة قارات العالم الجديد بالرمز (+) .

الاستعمار الأوربي

.....
.....
.....
.....

الحرب العالمية الأولى ١٩١٤ / ١٩١٨ م.

علل لما يأتي: أطلق على الحرب التي نشبت في الفترة ما بين ١٩١٤/١٩١٨م الحرب العالمية الأولى؟.

بم نفس: قيام الحرب العالمية الأولى؟. (أسباب الحرب)

١.

٢.

٣.

عرف الحرب العالمية

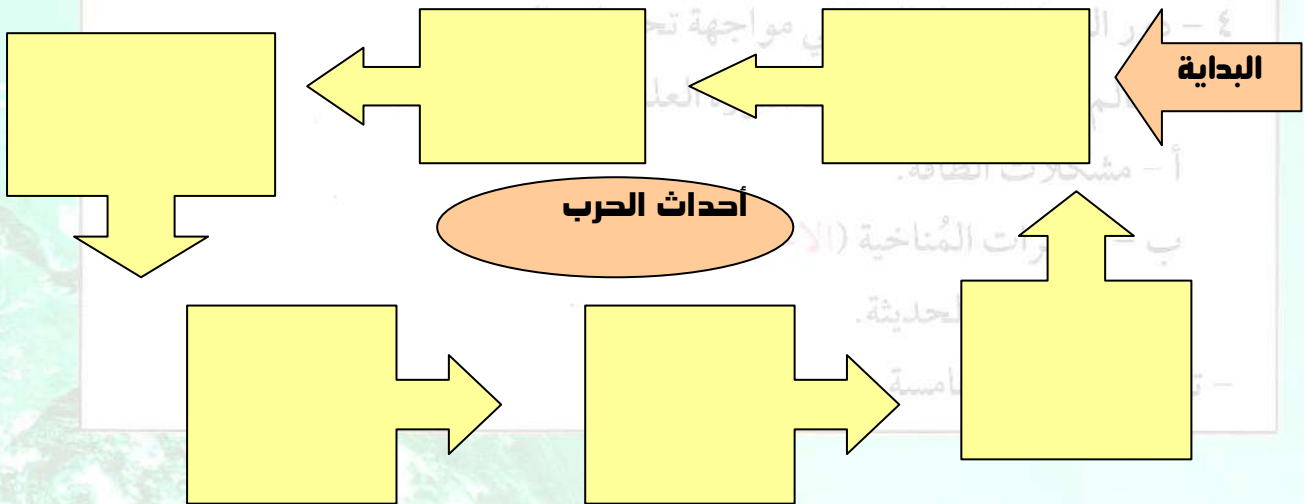


من خلال الصورة السابقة أذكر السبب المباشر لقيام الحرب العالمية الأولى ٢٨ يونيو ١٩١٤م.

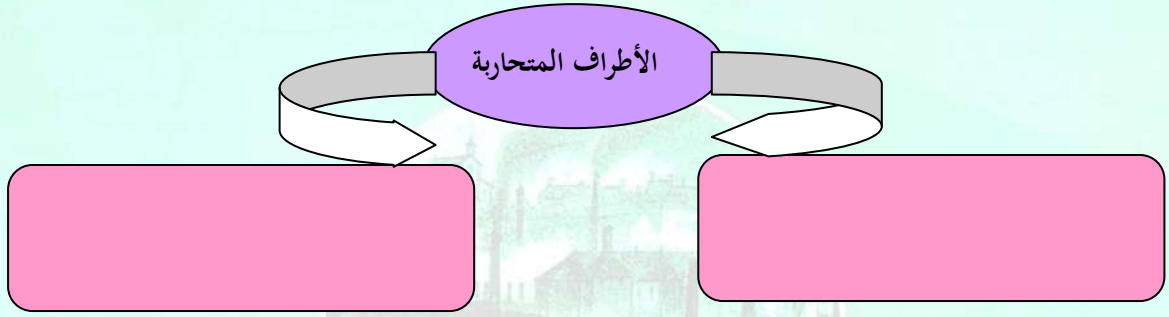
أكمل العبارات التالية بالكلمات المناسبة:

١. الحرب التي شارك فيها معظم دول العالم في الفترة ما بين ١٩١٤/١٩١٨م تسمى
٢. ولي عهد النمسا الذي تسبب اغتياله في صربيا ٢٨ يونيو ١٩١٤م في قيام الحرب العالمية الأولى يسمى
٣. المدينة التي اغتيل فيها ولي عهد النمسا في ٢٨ يونيو ١٩١٤م تسمى
٤. يطلق على منطقة البلقان (جنوب شرق أوروبا) لفظ
٥. قامت الحرب العالمية الأولى عندما أرسلت النمسا إنذارا إلى دولة

أستكمل الخريطة الذهنية التالية ثم لخص أهم أحداث الحرب العالمية الأولى:



أستكمل المخطط التالي ثم أجب عن الأسئلة التي تليها




ما أسباب دخول الولايات المتحدة الأمريكية الحرب العالمية الأولى ١٩١٧ م ؟

علل: خروج روسيا من الحرب العالمية الأولى ١٩١٧ م ؟

أكمل العبارات التالية

١. بلغ عدد الدول المشاركة في الحرب العالمية الأولى دولة.
٢. أطلق علي الفريق الذي ضم ألمانيا والنمسا والدولة العثمانية لفظ
٣. اللفظ الذي أطلق علي بريطانيا وفرنسا وروسيا و USA دول
٤. دخلت إنجلترا الحرب العالمية الأولى لانتهاك ألمانيا حياد دولة تسمى
٥. عاصمة روسيا القيصرية زمن الحرب العالمية الأولى مدينة تسمى
٦. الحرب العالمية الأولى انتهت بانتصار دول وهزيمة دول
٧. الحرب العالمية الأولى انتهت في الساعة ١١ يوم ١١/١١/١٩١٨ م واستمرت



عزيزي الطالب اكتب تعليقا مناسباً علي الصور السابقة الثورة العلمية والتكنولوجية.

تأثير الحرب العالمية الأولى:

أذكر أهم نتائج مؤتمر صلح باريس ١٩١٩ م : (الاحتباس الحراري).



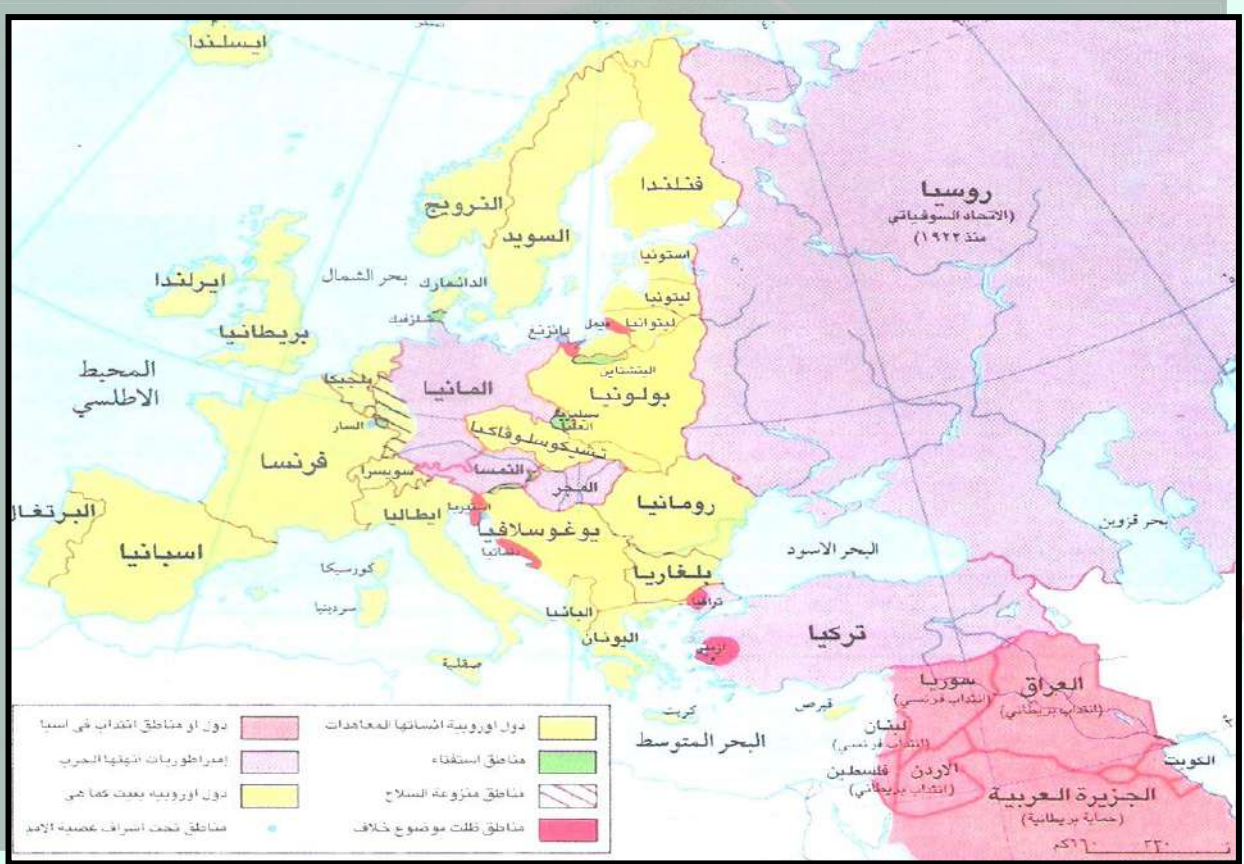
الصورة تمثل

أكمل العبارات التالية بالكلمات المناسبة:

١. عقد مؤتمر الصلح في باريس عام ١٩١٩ م في قصر يسمى

اليوم التاريخ/...../.....م

٢. كان الهدف من عقد مؤتمر الصلح في باريس هو
انظر عزيزي الطالب خريطة أوروبا السياسية بعد الحرب العالمية الأولى ثم اجب عن الأسئلة التي تليها:



ضع

الرموز في مكانها الصحيح علي الخريطة ثم سجل إجاباتك :

- الدول الأوروبية التي أنشأتها معاهدات صلح باريس والرمز (=) وهي :

- الإمبراطوريات التي اختفت نتيجة الحرب العالمية الأولى والرمز (+) وهي :

- نماذج لدول أوروبية بقيت كما هي والرمز (×) وهي :

- نماذج للأقاليم التي ظلت موضوع خلاف والرمز (////) وهي :

- مناطق وضعت تحت الانتداب البريطاني والرمز (#) وهي :

- مناطق وضعت تحت الانتداب الفرنسي والرمز (&) وهي :

- الدولة التي انسحبت من الحرب العالمية الأولى تسمى والرمز (\$) . -

الأوضاع بين الحربين العالميتين الأولى والثانية (١٩١٩ / ١٩٣٩م

أولا: الأزمة الاقتصادية العالمية :

اليوم التاريخ/...../..... م

فرق بين مظاهر الأزمة المالية (الاقتصادية) مسكماً بالجدول التالي

الدول المنتصرة في الحرب	الدول المهزومة في الحرب
.....
.....
.....

برقفس: لم تتأثر الولايات المتحدة الأمريكية اقتصادياً خلال الحرب العالمية الأولى كما تأثر بغيرها ؟

.....

.....

علل: تعرض الولايات المتحدة الأمريكية لأزمة اقتصادية عنيفة بعد انتهاء الحرب العالمية الأولى ؟

.....

.....

.....

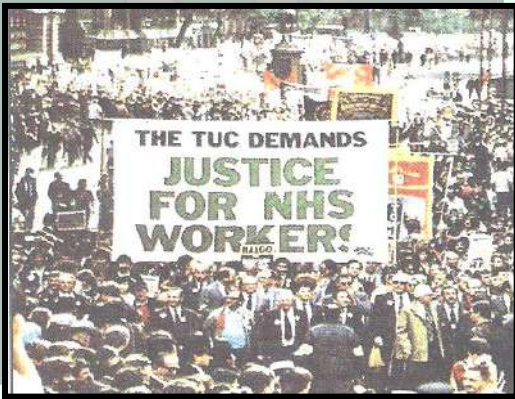
■ اذكر الدول المهزومة في الحرب العالمية الأولى :

الصورة تمثل

■ الدول المنتصرة في الحرب العالمية الأولى :

■ الدولة التي انسحبت من الحرب العالمية الأولى ١٩١٧ م :

■ الدولة التي دخلت الحرب العالمية الأولى ١٩١٧ م :



دلل تاريخياً على صحة العبارة التالية من خلال مظاهر الأزمة الاقتصادية

(أدى دخول الولايات المتحدة الأمريكية الحرب العالمية الأولى إلى انتصار دول الحلفاء في الحرب)

.....

.....

■ بالاستعانة بالقراءات الخارجية أذكر نماذج للإجراءات التي اتخذها الرئيس الأمريكي (روزفلت) لمواجهة الأزمة الاقتصادية :

.....

.....

.....

.....

ثانياً : ظهور الديكتاتوريات.

نظم مقارنة تاريخية بين الأنظمة الديكتاتورية التالية:

المقارنة	الشيوعية	النازية	الفاشية
التعريف			

			الزعيم (القائد)
			الحزب الحاكم
			مبادئ الحركة
			السياسة المتبعة
			بلد الظهور

أذكر أوجه الشبة بين الأنظمة الديكتاتورية :

عرف الديكتاتورية

١.
٢.
٣.

علل : وقوف بعض الشعوب الي جانب الحركات الديكتاتورية ؟

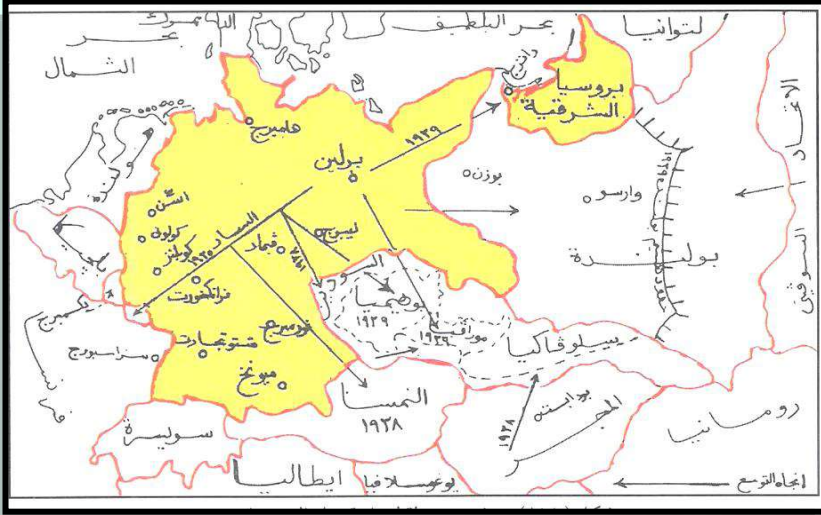
وضح كيف نجحت الحركات الديكتاتورية في خداع الشعوب للوصول إلى الحكم ؟

أكتب أسماء الشخصيات التاريخية التالية :



علي الخريطة التالية وضح السياسة التوسعية التي اتبعها هتلر بعد تولية الحكم في ألمانيا :

أذكر أهم المناطق التي حاول هتلر ضمها بالقوة إلي ألمانيا :



ضع المصطلحات التاريخية المناسبة أمام العبارات التالية:

١. (.....) كلمة ألمانية معناها الاشتراكية الوطنية.
٢. (.....) كلمة لاتينية بمعنى حزمة العصي دليل علي القوة وهو شعار الإمبراطورية الرومانية القديمة.
٣. (.....) نظام اجتماعي تكون الملكية الأرض وأدوات الإنتاج في يد الشعب.
٤. (.....) من أشكال الحكم وتكون السلطة في يد فرد لا يتقيد بدستور أو قانون.

الحرب العالمية الثانية ١٩٣٩ / ١٩٤٥ م:

■ علل لما يأتي: قيام الحرب العالمية الثانية ؟

- ١ - الحرب العالمية الأولى.
- ٢ - الأزمات السياسية والاقتصادية في أوروبا.
- ٣ - الحرب العالمية الثانية.
- ٤ - دور المنظمات العالمية في مواجهة تحديات العصر.

■ ما هو السبب المباشر لقيام الحرب العالمية الثانية ١٩٣٩ م ؟

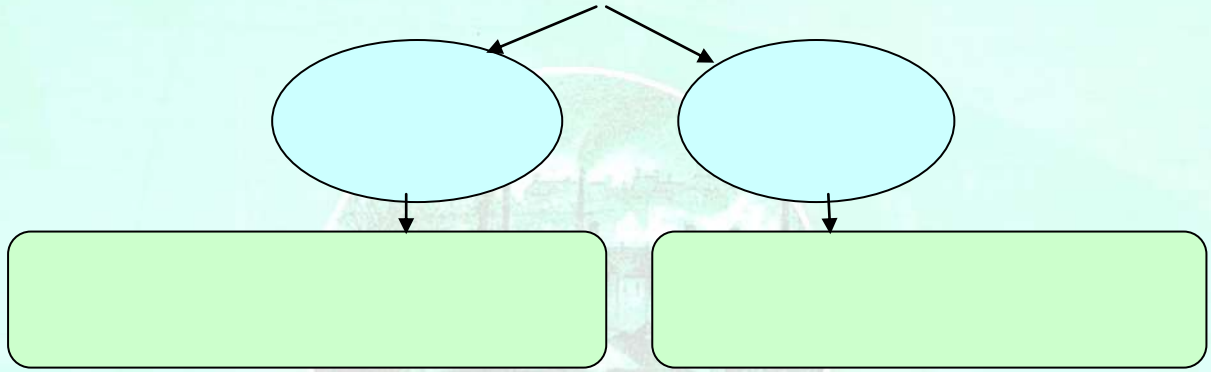


اكتب نبذة تاريخية عن معر دايانج

- ١ - الأمراض الحديثة.
- ٢ - تقويم الوحدة الخامسة.

استكمل المخطط التالي عن الأطراف المشاركة في الحرب العالمية الثانية

الدول المشتركة في الحرب العالمية الثانية




دلل على صحة العبارة التالية « قسوة شروط معاهدة فرساي على الدول المهزومة من أسباب قيام الحرب العالمية الثانية ».

مراحل الحرب العالمية الثانية.

أستكمل الجدول التالي الذي يوضح مراحل الحرب العالمية الثانية:

المرحلة الثانية (١٩٤٢ / ١٩٤٥ م)	المرحلة الأولى (١٩٣٩ / ١٩٤٢)



الصورة (١) تمثل الصورة (٢) تمثل الصورة (٣) تمثل
عزيزي الطالب سجل شعورك نحو الصورتين (١) ، (٢) :

أذكر أنواع الأسلحة التي استخدمت في الحرب العالمية الثانية بالاستعانة بالصورة (٣).

أذكر نتائج الحرب العالمية الثانية (الكتاب ص ١٢٦).

اليوم التاريخ/...../.....م

دور المنظمات العالمية في مواجهة تحديات العصر .
علل: إنشاء المنظمات الدولية في القرن العشرين الميلادي؟

أكمل العبارات التالية:

١. المنظمة العالمية للسلام التي نشأت عقب الحرب العالمية الأولى تسمى
 ٢. المنظمة الدولية للسلام التي نشأت عقب انتهاء الحرب العالمية الثانية تسمى
 ٣. أدي قيام الحرب العالمية الثانية إلي انهيار منظمة دولية للسلام تسمى
- علل: فشل منظمة عصبة الأمم وانهيارها ١٩٣٩م؟

لخص كيف ظهرت منظمة الأمم المتحدة (هيئة الأمم المتحدة) الي الوجود ١٩٤٥م/١٠/٢٤م.

أكتب نبذة تاريخية عن (مؤتمر يالطا ١٩٤٥م).



عرف المنظمات الدولية

عرف عصبة الأمم:

٤ - دور المنظمات العالمية في مواجهة تحديات العصر
أذكر أهداف هيئة الأمم المتحدة (علل / أذكر السبب)
الروساء الذين حضروا مؤتمر صلح باريس ١٩١٩م

١ - مشكلات الطاقة.

٢ - التغيرات المناخية (الاحتباس الحراري)

ما هي شروط الانضمام لهيئة الأمم المتحدة:

١ - تقويم الوحدة الخامسة.



الصورة تمثل

أجهزة منظمة الأمم المتحدة:



ضع المصطلح المناسب أمام العبارات التالية:

١. (.....) الجهاز الرئيسي للأمم المتحدة ويضم جميع الدول الأعضاء.
٢. (.....) الجهاز التنفيذي للأمم المتحدة وأقوي الأجهزة علي الإطلاق.
٣. (.....) الجهاز الإداري للأمم المتحدة ويرأسها السكرتير العام لمدة خمس سنوات.
٤. (.....) الأداة القضائية للأمم المتحدة وتتكون من ١٥ قاضي.
٥. (.....) جهاز شكل للأشراف علي إدارة المناطق التي وضعت تحت وصاية الأمم المتحدة بعد الحرب.
٦. (.....) جهاز مهمته تنسيق الجهود الاقتصادية والاجتماعية بين الدول الأعضاء.

أكمل العبارات التالية :

١. المقر الرئيسي لهيئة الأمم المتحدة مدينة تسمى
٢. مقر محكمة العدل الدولية مدينة في هولندا تسمى.....
٣. الشخصية العربية الوحيدة التي تولت منصب السكرتير العام لهيئة الأمم المتحدة يسمى
٤. عدد الأعضاء الدائمين في مجلس الأمن دول والغير دائمين..... ويتم انتخابهم كل سنتين.
٥. محكمة العدل الدولية تتكون من قضاء دوليين يبلغ عددهم
٦. الدول التي صدقت علي إنشاء هيئة الأمم المتحدة يبلغ عددها دولة.

مفهوم الطاقة:

.....
.....
.....


العالم في مواجهة تحديات الثورة العلمية والتكنولوجية.

(أ) مشكلات الطاقة :

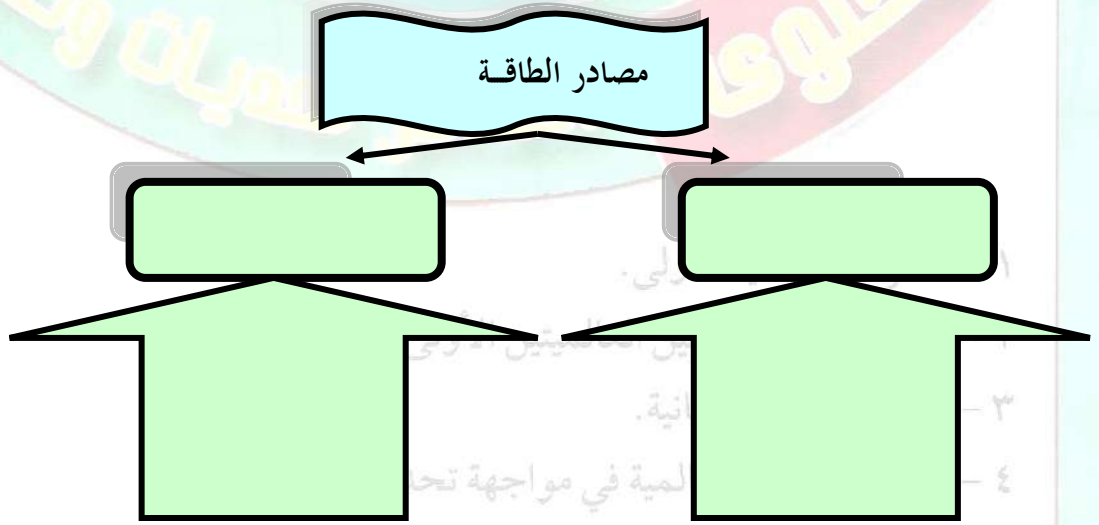
علل لما يأتي : أهمية الطاقة في حياة الإنسان المعاصرة ؟.

١.
٢.
٣.

■ بالاستعانة بالشكل التالي أكتب مراحل استخدام الإنسان للطاقة:



■ أستكمل المخطط التالي الذي يوضح أهم مصادر الطاقة :



أكمل العبارات التالية :

١. مصادر الطاقة الغير متجددة (الناضبة) تمثل من الاستهلاك العالمي للطاقة نسبة تبلغ

٢. يطلق علي مصادر الطاقة المتجددة لفظ (الحراري).

الواقع الحالي لاستخدام الطاقة :

أكمل العبارات التالية :

١. مصادر الطاقة الناضبة تستخرج من باطن الأرض ولذلك يطلق عليها لفظ

٢. أكثر مصادر الطاقة الناضبة استخداما في العالم حاليا

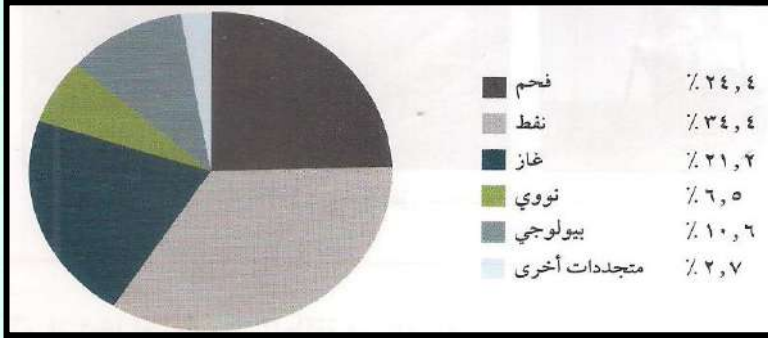
٣. الضغط المتزايد علي مصادر الطاقة الغير متجددة يعرضها لخطر

أنظر الشكل التالي ثم أجب عن الأسئلة التالية

اليوم التاريخ/...../..... م

- رتب مصادر الطاقة ترتيبا تنازليا من حيث

الاستهلاك العالمي : ١-



٢- ٣-.....

٤- ٦-.....

- كم تبلغ نسبة مساهمة النفط والغاز الطبيعي

في الاستهلاك العالمي للطاقة

- المصدر الثاني للطاقة في العالم

النفط والغاز الطبيعي :

○ **علل لما يأتي : أهمية النفط والغاز الطبيعي في حياتنا المعاصرة ؟**

○ **برهن علي صحة العبارة التالية [للنفط استخدامات عديدة].**

بالاستعانة بخريطة العالم أجب عن الأسئلة التالية :

○ **أهم مناطق إنتاج النفط في العالم :**



٢- الأوضاع بين الحربين العالميتين الأولى

٣- الحرب العالمية الثانية.

٤- دور المنظمات العالمية في مواجهة تحد

○ **هل يتوافق إنتاج الغاز الطبيعي مع النفط ؟. اورد العلم**

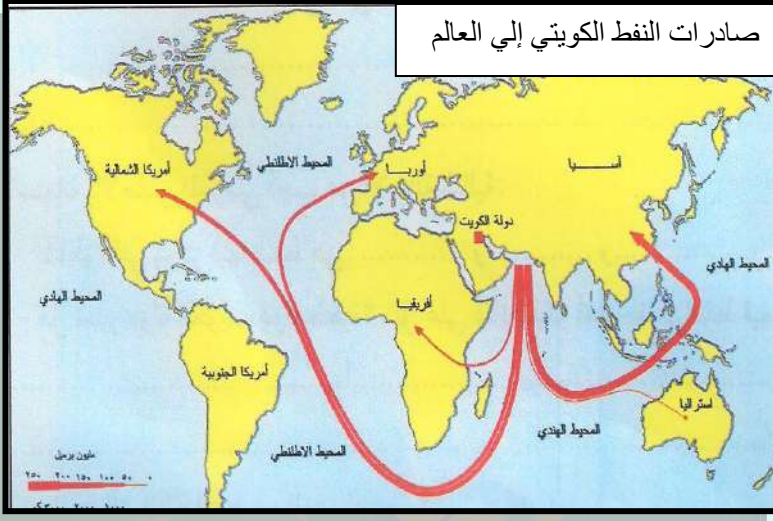
أ- مشكلات الطاقة.

ب- التغيرات المناخية (الاحتباس الحر

○ **استكمل جدول المقارنة التالي:**

المقارنة	منظمة الأوبك	منظمة الأوبك
التعريف		
الدول		

صادرات النفط الكويتي إلى العالم



○ أذكر أهم الدول المستوردة للنفط الكويتي

.....
.....
.....

○ وضع دور دول الكويت في منظمتي

الأوبك والأوابك:

.....
.....
.....

بم تفسر: خطورة الاعتماد المتزايد على النفط كمصدر للطاقة ؟.

■ علل : إنشاء منظمة الأقطار العالمية المصدرة للنفط (أوبك) ؟.

ضع المصطلح أمام العبارات التالية :

١. (.....) المنظمة العربية للدول المنتجة والمصدرة للنفط وتأسست ١٩٦٨م.

٢. (.....) المنظمة العالمية للدول المصدرة للنفط وتأسست ١٩٦٠م.

٣. (.....) يطلق عليها توأم النفط ويتواجد مع النفط في نفس البئر.

٤. (.....) يعطي طاقة حرارية عالية وأقل من النفط في تلوث البيئة وينقل مسال في ناقلات خاصة

للأسواق الخارجية.

٥. (.....) مصدر الطاقة الأول في العالم ويسمي الذهب الأسود.

(ب) التغيرات المناخية (الاحتباس الحراري) .

أكمل العبارات التالية:

١. حركة التصنيع والزيادة السكانية المتزايدة أدت غلي مضاعفة استهلاك

٢. السبب الرئيسي لتلوث الهواء هو انبعاث

الاحتباس الحراري:

طبقة الأوزون:

اليوم التاريخ/...../.....م

٣. التلوث الهوائي أدى غلي تآكل طبقة مهمة في الغلاف الجوي تسمى
٤. تتركز مناطق التلوث في أجواء المدن الكبرى مثل و

علل لما يأتي: حدوث التلوث الهوائي؟

أستكمل المخطط التالي الذي يوضح الآثار السلبية المترتبة على التلوث الهوائي:



■ علل لما يأتي: حدوث ظاهرة الاحتباس الحراري .

■ أذكر أهم الآثار المترتبة على ظاهرة الاحتباس الحراري؟



■ علل : حدوث تآكل في طبقة الأوزون (ثقب الأوزون)؟


■ أذكر أهم الآثار المترتبة على : تآكل طبقة الأوزون ؟

التعاون الدولي لمكافحة التلوث البيئي

أستكمل الجدول التالي لنتائج وقرارات المؤتمرات الدولية للتعاون الدولي:

مؤتمر قمة الأرض في البرازيل عام	مؤتمر قمة الأرض في جنوب أفريقيا	مؤتمر مجموعة الثمانية عام
---------------------------------	---------------------------------	---------------------------

١٩٩٢م	عام ٢٠٠٢م	٢٠٠٥م



■ علل لما يأتي : انتشار الأمراض الوبائية الخطيرة في العصر الحالي ؟.

مرض أنفلونزا طيور:

مرض الإيدز:

■ علل: حدوث الإيدز؟

■ علل: حدوث مرض أنفلونزا الطيور

ب - التغيرات المناخية (الاحتباس الحراري).

ج - الأمراض الحديثة.

- تقويم الوحدة الخامسة.